

--	--

103 年高中高職特色招生考試

社會科參考題本

請不要翻到次頁！

讀完本頁的說明，聽從監試委員的指示才開始作答！

※請先確認你的答案卡、准考證與座位號碼是否一致無誤。

請閱讀以下測驗作答說明：

測驗說明：

這是高中高職特色招生考試社會科題本，題本採雙面印刷，共 **13** 頁，有 **45** 題選擇題，每題都只有一個正確或最佳的答案。測驗時間從 **10:40** 到 **11:40**，共 **60** 分鐘。作答開始與結束請聽從監試委員的指示。

注意事項：

1. 所有試題均為四選一的選擇題，答錯不倒扣。
2. 試題中所附圖形，如有附上比例尺，以比例尺為依據作答；若無比例尺，則該圖僅作為參考，不代表實際大小。
3. 可利用題本中空白部分計算，切勿在答案卡上計算。
4. 依試場規則規定，答案卡上不得書寫姓名座號，也不得作任何標記。故意汙損答案卡、損壞試題本，或在答案卡上顯示自己身分者，該科測驗不予計分。

作答方式：

請依照題意從四個選項中選出一個正確或最佳的答案，並用 **2B** 鉛筆在答案卡上相應的位置畫記，請務必將選項塗黑、塗滿。如果需要修改答案，請使用橡皮擦擦拭乾淨，重新塗黑答案。例如答案為 **B**，則將 **Ⓐ** 選項塗黑、塗滿。
即： **Ⓐ** ● **Ⓑ** ○ **Ⓒ** ○ **Ⓓ** ○

以下為錯誤的畫記方式，可能導致電腦無法正確判讀。如：

- Ⓐ ● **Ⓑ** ○ **Ⓒ** ○ **Ⓓ** ○ — 未將選項塗滿
- Ⓐ **Ⓑ** ○ **Ⓒ** ○ **Ⓓ** ○ — 未將選項塗黑
- Ⓐ ● **Ⓑ** ○ **Ⓒ** ○ **Ⓓ** ○ — 未擦拭乾淨
- Ⓐ ● **Ⓑ** ○ **Ⓒ** ○ **Ⓓ** ○ — 塗出選項外
- Ⓐ ● ● **Ⓑ** ○ **Ⓒ** ○ **Ⓓ** ○ — 同時塗兩個選項

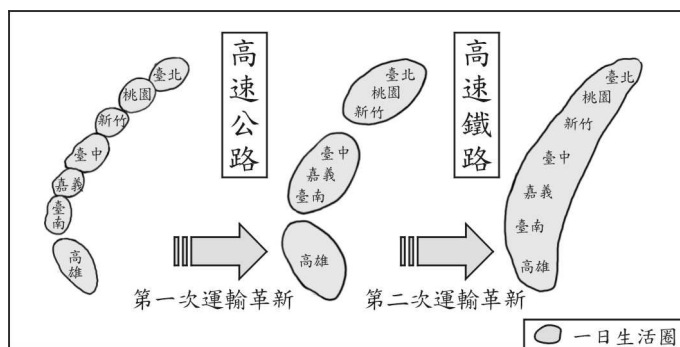
請聽到鈴（鐘）聲響後，於題本右上角方格內填寫准考證末兩碼，再翻頁作答

國立臺灣師範大學心理與教育測驗研究發展中心 聲明

1. 本參考題本，純作為練習參考之用。
2. 為使考生能充分了解高中高職特色招生考試之命題精神與題本格式，同意各界在非營利目的之條件下使用此參考題本。請勿隨意拼裝資料，導致誤解，採用時請註明出處，並書面通知本中心。

一、單題：(1~37 題)

1. 運輸革新對生活圈的改變影響頗大，老師在課堂上教授該主題時，請同學根據圖(一)發表意見，下列哪位同學的看法較為符合此圖所示？



圖(一)

- (A)明遠：兩次的運輸革新有助於東、西部生活圈的連結。
 (B)雅庭：第一次運輸革新增加臺灣南北間的長途運輸時間。
 (C)仁傑：第二次運輸革新將使北、中、南三大生活圈整合成一大型生活圈。
 (D)惠娟：第二次運輸革新讓原本以縣市為主的生活圈擴展為北、中、南三大都會區。

2. 圖(二)中的甲、乙、丙、丁皆為美國的棒球場，其中有一球場位於海拔 1,609 公尺的高地上，其地勢較高、空氣密度較低、地心引力較小，球被擊出後所受到的阻力較小，因此較容易形成全壘打，故有「打者天堂」的稱呼。該球場應是指何者？



圖(二)

- (A)甲
 (B)乙
 (C)丙
 (D)丁

3. 「每年農曆春節前後，中國有數億離鄉工作的人口，藉由鐵、公路往返於家鄉與工作地點間，龐大人潮常造成運輸系統的壅塞，也使得政府運輸部門如臨大敵，此即為『春運現象』。」根據上文所述，若以中國三大經濟地帶區分，在春節前，返鄉人潮最多的移動方向應為下列何者？

- (A)西部→中部
 (B)中部→西部
 (C)東部→中部
 (D)中部→東部

4. 表(一)為臺灣每年進口櫻桃的資料，根據此表，櫻桃在一年之中有二次進口期的原因，最可能為下列何者？

表(一)

進口時間	進口來源(產地)
約 5 月至 7 月	美國華盛頓州、加州
約 12 月至隔年 2 月	智利、紐西蘭、澳洲

- (A)南、北半球皆有生產
 (B)配合市場需求輪番生產
 (C)櫻桃樹一年可結果二次
 (D)冷藏封存時間可達六個月

請翻頁繼續作答

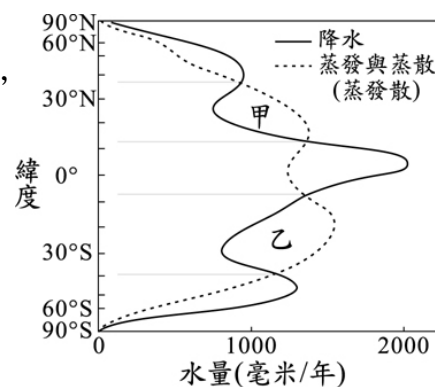
5. 表(二)是中國某地區近年來最低基本工資的變化情形。對於在該地設廠的外國企業而言，下列何種工業類型最可能因為此種變化而失去生產優勢？

表(二)

時間(年)	2005	2006	2007
最低基本工資 (人民幣/月)	450	510	690

- (A)紡織工業
(B)鋼鐵工業
(C)石化工業
(D)造船工業

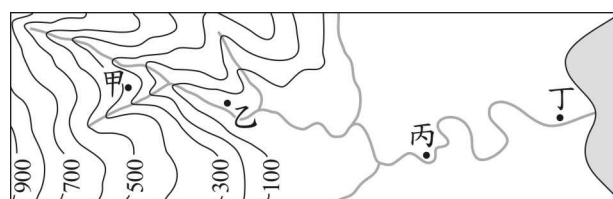
6. 圖(三)為全球各緯度降水量與蒸發散量的變化情形。當一地的蒸發散量小於降水量時為「剩水區」，反之則為「缺水區」。圖中甲、乙二區塊所代表的水文現象，主要是受下列何者的影響？



- (A)位寒、暖流交會處
(B)為西風帶的背風側
(C)副熱帶高氣壓籠罩
(D)日照強且對流旺盛

圖(三)

7. 圖(四)為某條河流自發源地到入海口的等高線地形圖。根據圖中各河段的地形變化及水文特徵，下列哪一地點最可能位於沖積扇上？



圖(四)

- (A)甲
(B)乙
(C)丙
(D)丁

8. 依據 2004 年的資料，南韓的平均國民所得為 14,162 美元，與北韓的平均國民所得 914 美元有很大的差距。小賴想用不同因素來解釋南、北韓的經濟發展差異，如表(三)所示，其中哪一個因素無法解釋上述差異？

表(三)

因素 \ 國家	南韓	北韓
氣候條件	生長季長	生長季短
礦產資源	少	多
經濟制度	偏市場經濟	偏計畫經濟 (統制經濟)
貿易總值	高	低

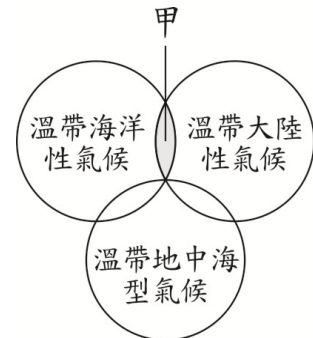
- (A)氣候條件
(B)礦產資源
(C)經濟制度
(D)貿易總值

9. 圖(五)的灰色區塊代表中國某種經濟作物的主要產區，根據其分布區域判斷，下列何者為該作物生長所需要的環境條件？
- (A) 高溫多雨，生長季長
 (B) 暖溼多霧，排水良好
 (C) 年雨量少於 250 毫米，日溫差大
 (D) 夏季高溫且日照充足，秋季乾涼




圖(五)

10. 圖(六)是歐洲主要氣候類型的示意圖，部分地區受到緯度及海陸位置影響，氣候呈現過渡性的特徵。下列哪一個國家即具有圖中「甲區」所代表的氣候特徵？
- (A) 丹麥
 (B) 希臘
 (C) 德國
 (D) 俄羅斯



圖(六)

11. 圖(七)為阿華在不同月分於住家附近河川所看到的景觀，該圖呈現出臺灣河川的某種特性。該特性對於臺灣的影響較可能為何？
- (A) 地下水持續降低
 (B) 夏季時多颱風侵襲
 (C) 造成河口地層下陷
 (D) 須建水庫調節供水



圖(七)

12. 「由印度洋吹來的東風抵達這座位於赤道附近的世界名山之後，水氣在陡然上升的過程中凝結，因此高聳入雲的山頂白雪皚皚，形成『赤道雪峰』的奇觀。」上述名山應是位在下列何處？
- (A) 非洲
 (B) 亞洲
 (C) 歐洲
 (D) 南美洲

13. 西元前十八世紀的漢摩拉比、西元六世紀的查士丁尼以及十九世紀的拿破崙為歷史上著名的領袖，他們均有下列哪一項政績？

- (A) 遷移首都
- (B) 制定曆法
- (C) 統一貨幣
- (D) 頒布法典


表(四)

14. 表(四)是歷史上三個時期的人口比例資料，影響這段期間黃河流域人口比例轉變的根本原因為何？

時代	地區	人口比例
西漢平帝元始二年 (西元2年)	黃河流域	75.5%
	長江流域	20.9%
唐玄宗天寶年間 (西元742~756年)	黃河流域	61.4%
	長江流域	25.8%
北宋神宗元豐元年 (西元1078年)	黃河流域	34.8%
	長江流域	58.4%

- (A) 政府計畫性推行移民政策
- (B) 人民習於離鄉尋找新耕地
- (C) 南方氣候溼熱，不利人居
- (D) 北方戰亂頻繁，百姓南遷

15. 圖(八)是《歐洲每日大事記》內〈快報〉的部分內容：



標題：XXXX年X月X日(巴達維亞方面得知臺灣遇襲)，駐守福爾摩沙的荷蘭員工遭受漢人入侵的情況。

……(由於)無法立刻攻下熱蘭遮城，他要求城主揆一開城投降，這樣的話，所有荷蘭人都可以自由帶走私人財產。若拒絕投降，他誓言……毀滅任何有生命的東西。

圖(八)

參考上述資料，有助於我們了解下列哪一主題？

- (A) 郭懷一抗荷事件
- (B) 鄭氏政權的建立過程
- (C) 鄭和出使對東南亞造成的影響
- (D) 荷蘭聯合東印度公司的成立背景

16. 表(五)為歷年來臺灣農、工業占國內生產淨值的比例：

表(五)

年別(西元)	1952	1955	1960	1965	1970	1975	1980	1985	1990
農業(%)	32.2	29.1	28.5	23.6	15.5	12.7	7.7	5.8	4.1
工業(%)	19.7	23.2	26.9	30.2	36.8	39.9	45.7	46.3	42.5

我們可運用表中資訊回答下列哪一問題？

- (A) 工業產值比例在 1960 年後，呈現出何種發展趨勢？
- (B) 1985 年的勞工人口比 1960 年的勞工人口增加多少？
- (C) 自哪一年起，資訊工業占工業產值的比例大幅提升？
- (D) 1955 年後，農地轉為工業用地的土地面積比例為何？

17.表(六)是某一主題的相關代表性事件整理，此主題最可能為何？


- (A)工業革命的發生
- (B)共產制度的式微
- (C)民族主義的沒落
- (D)區域統合的挫敗

表(六)

主題：	？
1	東歐巨變
2	德國統一
3	蘇聯瓦解

18.十九世紀中葉，臺灣的茶葉外銷量迅速增加，還吸引了外來的資金和技術到臺灣。若想了解當時臺灣茶葉出口的詳細情形，最適合參閱下列何項資料？

- (A)淡水海關報告
- (B)熱蘭遮城日誌
- (C)雍正朝硃批奏摺
- (D)臺灣總督府專賣局檔案

 硃批奏摺：指皇帝用朱筆所批閱的奏章。

19.圖(九)是某展覽的簡介，根據內容判斷，此次展覽的主題最可能是下列何者？

- (A)南島語族與臺灣原住民
- (B)非洲大陸及其各種語系
- (C)全球化下的語言同化現象
- (D)帝國殖民統治的語言政策

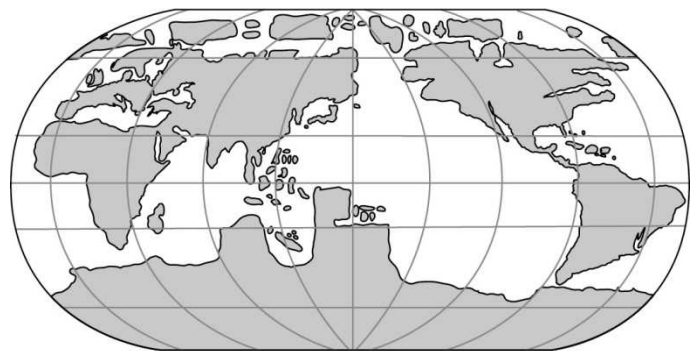
展覽簡介

在太平洋的眾多島嶼上，有許多使用不同語言的族群，但他們對於鯊魚、烏賊、蝦子等動物的稱呼卻很類似，語言學家因而認為，這些族群語言的起源可能相同。他們的分布範圍東起復活島，西到非洲東岸的馬達加斯加島，南到新幾內亞、紐西蘭，而臺灣則是其分布的北界，保存了許多古語的特徵。

圖(九)

20.地圖所描繪的樣貌可呈現當時人們對世界的認知。古代中國曾出版了參考當時西方世界地圖所繪製的地圖，如圖(十)所示。根據圖中的資訊，此圖最早可能出現於下列何時？

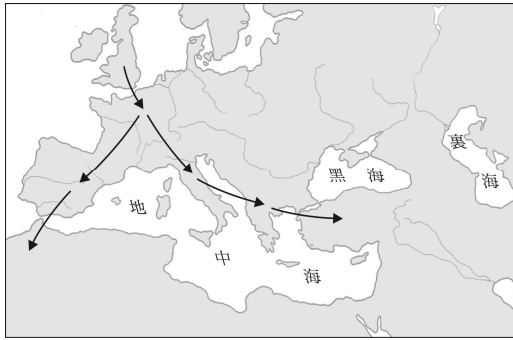
- (A)玄奘西行印度取經時
- (B)蒙古西征攻陷歐洲時
- (C)鄭和七次下西洋期間
- (D)明末傳教士來華期間



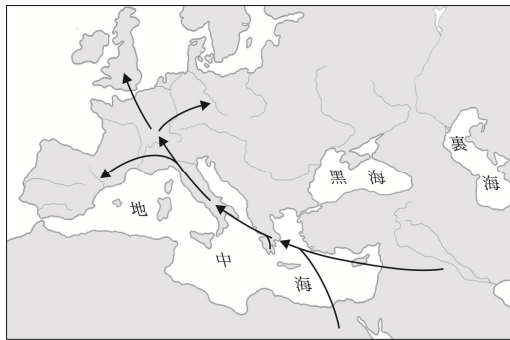
圖(十)

21.關於西方文明大致的發源與擴張過程，下列哪一幅圖的表示內容較為正確？

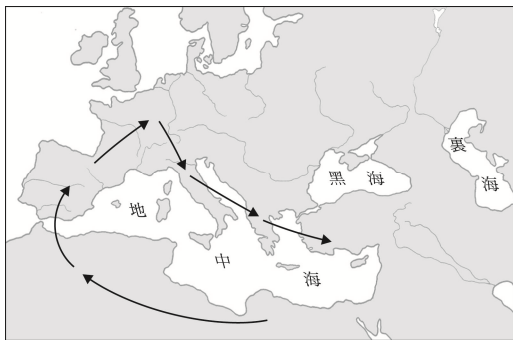
(A)



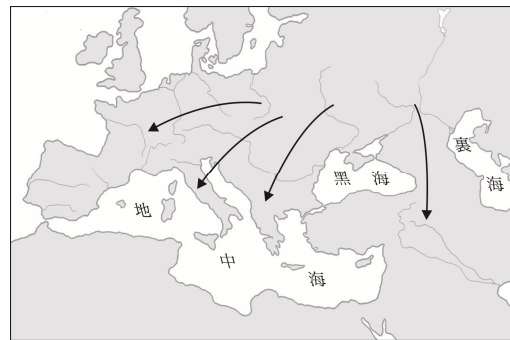
(B)



(C)



(D)



22.中亞草原是歐亞間各種勢力競逐之地。西元七、八世紀時，有三大強權在這裡交會，包括由東向西的唐朝，由南向北的吐蕃，以及由西向東發展的哪一國家？

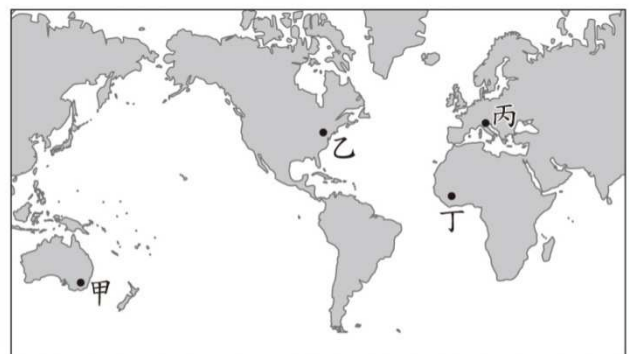
(A)匈奴帝國

(B)蒙古帝國

(C)阿拉伯帝國

(D)拜占庭帝國

23.「哥倫布發現通往東方新航線的消息傳來，某城市的商人極度恐慌，債券暴跌，這些反應來自於其擔心對亞洲貿易的主導地位可能會被取代。一直到確知哥倫布並沒有真的找到抵達亞洲的航線，這裡的商人才驚魂甫定。」這座城市最可能位於圖(十一)中甲、乙、丙、丁何處？



圖(十一)

(A)甲

(B)乙

(C)丙

(D)丁

24.表(七)是清朝末年,《紐約時報》對中國時事報導的新聞標題譯文,若依戰爭發生的時間順序排列,下列何者正確?

- (A)乙甲丙
(B)乙丙甲
(C)丙乙甲
(D)丙甲乙

表(七)

戰爭	報紙標題
甲	清帝下詔接受八國聯軍談判條件
乙	洗劫圓明園,北京升起英、法旗
丙	清帝下詔宣戰,日、清海陸會戰

25.西元1903年,有一日本雜誌對臺灣某港口的介紹如下:

「這個港口原本就具備天然良港的條件,在經過總督府耗資數百萬圓爆破暗礁、疏浚水深後,成為可以停泊千噸船舶的大港,且因與內地的距離近,旅客往來數及貨物進出口量,皆高居島內第一。」此港口應位於圖(十二)中何處?

- (A)甲
(B)乙
(C)丙
(D)丁



圖(十二)

26.小卡:「近來媒體廣告上出現不少新商品,像是針對視力退化者所推出的大字體手機,還有專為年長者開發的易吸收營養品。」

大通:「可能是因為這些商品的需求者愈來愈多,所以才吸引更多業者投入這塊市場吧!」

上述對話內容最可能是在討論我國社會上的何種現象?

- (A)利用社會資源,彌補家庭功能
(B)都市化程度高,改變消費習慣
(C)受少子化影響,產業結構轉型
(D)平均壽命提高,人口結構改變

27.表(八)為甲國已婚者處理家事時間的調查結果,根據表中內容判斷,該國最應宣導下列哪一種觀念?

- (A)提供失業者就業機會
(B)均衡家庭勞務的分配
(C)減緩性別比例的失衡
(D)強調職場的專業分工

表(八)

性別	男	女
就業比例	67.0%	49.7%
就業者平均處理家事的時間	0.46 (小時/天)	1.97 (小時/天)
無就業者平均處理家事的時間	1.01 (小時/天)	4.03 (小時/天)

28.表(九)是勝偉以甲國國會審議某法案為例，分析議員在接受遊說前後，對於法案態度的變化。根據內容判斷，下列何者最可能是他的觀點？

- (A)該國政黨體制屬多黨制
- (B)立法與行政部門相制衡
- (C)利益團體影響政策制定
- (D)遊說對於決策沒有影響

表(九)

調查時間	進行遊說前	進行遊說後
支持法案的議員比例	10%	60%
反對法案的議員比例	10%	30%
未表態的議員比例	80%	10%

29.許多選民遇到問題時經常四處陳情，下列哪一封陳情信內容屬於立法委員的職權？

(A)

○○○您好：
窮不能窮教育，懇請您們編列預算時能增加國民教育的經費。
陳情人小張

(B)

○○○您好：
某縣政府公務員的行為已涉及違法失職，請您們查明後予以彈劾。
陳情人阿虎

(C)

○○○您好：
《社會秩序維護法》的部分條文引發爭議，請您們作出《憲法》解釋。
陳情人小娟

(D)

○○○您好：
《勞動基準法》中的部分規定已不合時宜，希望您們能提案修改。
陳情人阿妙

30.表(十)是四位我國甲縣縣民的基本資料，若下個月將辦理地方行政首長選舉，僅根據表中內容判斷，下列何者最可能具備此次甲縣縣長選舉的候選人資格？

- (A)曾好勤
- (B)金美麗
- (C)張一偉
- (D)林發達

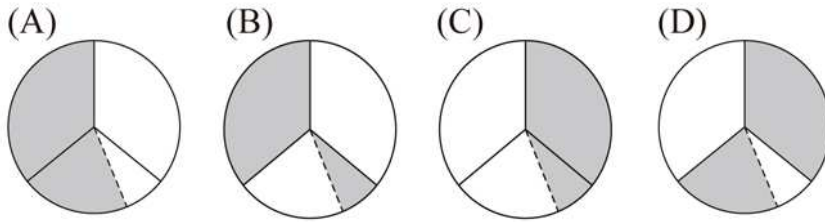
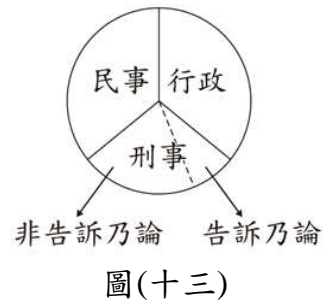
表(十)

姓名	年齡(歲)	備註
曾好勤	28	明年褫奪公權期限屆滿
金美麗	23	設籍甲縣且住滿二個月
張一偉	50	連任三屆甲縣民意代表
林發達	39	已連任一次的現任縣長


31.「縣、市合併」是縣、市為爭取成為直轄市的策略，藉由整合鄰近資源，增加改制成為直轄市的可能性。在我國目前的地方政府組織架構下，經由上述方式改制後的直轄市自治組織，將發生下列何種變化？

- (A)改制之後，新的直轄市將增設省諮議會
- (B)新的直轄市中，行政組織將畫分為三個層級
- (C)鄉(鎮、市)公所與區公所將並存於新的直轄市中
- (D)原來的縣、市議會將由重新改選的直轄市議會取代

32. 小光將可進行權利救濟的事件分為三類，並將其示意圖繪製成圖(十三)，若他將「可經由鄉、鎮、市、區公所調解委員會調解的事件」，以塗色的方式標記在圖上，則此圖應呈現如下列何者？



33. 圖(十四)是天福前往某地方法院參觀，在法庭內所看到審理案件時的座位示意圖。根據圖中內容判斷，他所看到的最可能是下列何者的審理情形？



圖(十四)

- (A) 行政處分的訴訟
- (B) 債務履行的糾紛
- (C) 竊盜財物的行為
- (D) 政黨違憲的審理

34. 右列是小曹在雜誌上所看到的一段內容。根據內容判斷，下列何者最能反映文中的看法？

政府不應以發展經濟為理由，將預算優先使用在重大建設上，而刪減社會福利經費，並將其視為不具生產性的支出。因為若社會福利制度完善，不但有助於穩定社會及政治環境，進而還能有利於經濟發展。

- (A) 預算應平均分配以分散風險
- (B) 社會福利政策具有外部效果
- (C) 經濟發展後會降低社會福利
- (D) 政府施政應要考量利潤多寡

35. 某餐廳的菜單如表(十一)，阿華從中挑選人氣最旺的丙餐，看了阿華的選擇後，大明說：「你點餐時只考量人氣程度，一點也不在意價格，而我完全不同，越便宜的餐點對我越有吸引力！」根據上述內容判斷，下列敘述何者正確？

表(十一)

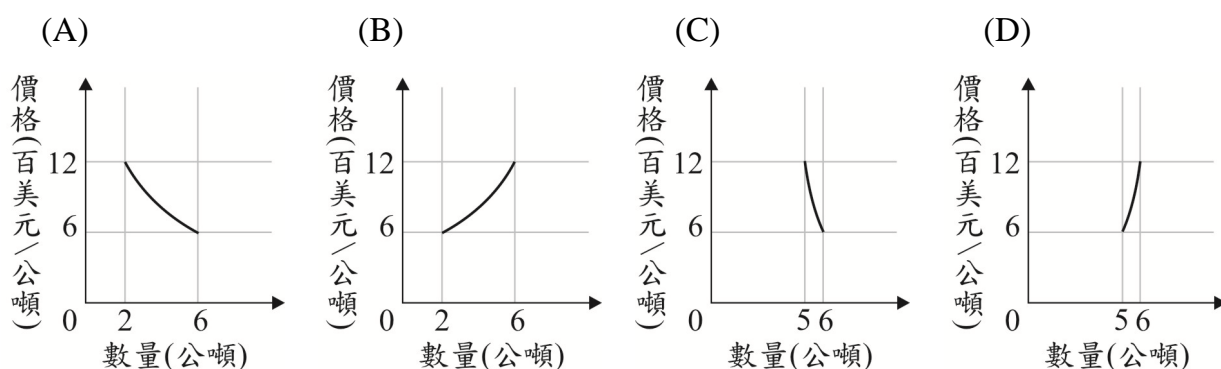
餐點	價格(元)	人氣程度
甲餐	130	👍👍
乙餐	120	👍
丙餐	140	👍👍👍

- (A) 大明選擇乙餐的機會成本最高
- (B) 阿華選擇丙餐的機會成本最高
- (C) 阿華與大明最佳選擇的機會成本皆為甲餐
- (D) 阿華與大明最佳選擇的機會成本皆為乙餐

36. 六歲的小樹在父母遭逢意外同時去世後，由成為監護人的爺爺將他接去同住。在得知小樹繼承了千萬遺產後，父親的債主便上門向小樹催討父親積欠的百萬債務。根據上述內容判斷，下列何者正確？

- (A) 小樹的家庭型態，由小家庭轉變為折衷家庭
- (B) 小樹雖未成年，但仍須償還父親的百萬債務
- (C) 小樹屬限制行為能力人，依法應受監護宣告
- (D) 小樹可聲請保護令，以避免受債權人的騷擾

37. 因全球氣候異常，導致白米市價上漲一倍，民眾因而減少白米的購買量，使得某米商的白米銷售量降低，但銷貨收入卻增加。根據上述內容判斷，下列何圖最符合米商銷貨收入的變化情形？



二、題組：(38~45 題)

閱讀下列選文，回答第 38 至 40 題：

某跨國企業在美國東北部的小鎮掘井抽取地下水，作為瓶裝水的原料，引起當地居民在鎮民大會上熱烈地討論：

居民甲：跨國企業在我們這裡大量抽水，不僅可能排擠我們未來的生活可用水量，也會造成自然環境的衝擊，並進而破壞生態。

居民乙：雖然在本鎮設廠可以增加居民的就業機會，但是跨國企業取用地下水所花費的低廉成本，和其販售瓶裝水所獲取的暴利相比，他們給我們的好處顯然還是太少了。

居民丙：從空瓶的製造、運輸至產地，到瓶裝水配送至世界各銷售點，都需要耗費大量的能源，而飲用過後廢棄空瓶的處理則是另一項難題，相較之下，飲用自來水環保多了。

38. 居民甲擔心造成的自然環境衝擊，與下列哪一張照片所顯示出來的現象最為相關？


(A)



(B)



(C)



(D)



39. 下列何項敘述最接近居民乙的觀點？

- (A) 跨國企業進駐將使當地壯年人口外流
- (B) 企業發展的同時應提供社會適當回饋
- (C) 政府應該要增加當地居民的社會福利
- (D) 貿易全球化不利於地方傳統產業發展

40. 考量瓶裝水製造到銷售過程所造成的問題，居民丙認為飲用自來水較佳。此一論點與下列何種作法考量的因素最為符合？

- (A) 盡量選擇比較便宜的農作物
- (B) 盡量選擇當地盛產的農作物
- (C) 避免選擇基因改造的農作物
- (D) 避免選擇噴灑農藥的農作物

閱讀下列選文，回答第 41 至 42 題：

有一本討論中國近代化過程的書上寫著—

「我們不要忘記，自強運動是十九世紀六〇年代開始的。鴉片戰爭的年代是一八四〇年，鴉片戰後，魏源寫《海國圖志》，就已經提出『學習外人長處以對抗外人』的口號，但當時清政府一直沒有採取新的政策來應付新的局面。蔣廷黻先生在他寫的《中國近代史大綱》裡說：『民族喪失二十年的光陰。』」

41. 根據上文，蔣廷黻所說「民族喪失二十年光陰」的主要意義為何？
- (A) 當時知識分子反抗西方侵略，人才大量犧牲
 - (B) 鴉片戰後滿清仍以天朝自居，延誤改革時機
 - (C) 鴉片戰爭發生，中止了魏源籌劃的改革工作
 - (D) 滿清致力發展對外關係，無暇進行內部變革
42. 下列哪一項史事最接近文中所提「學習外人長處以對抗外人」的主張？
- (A) 李鴻章引進西式武器，培訓人才與列強競爭
 - (B) 洪秀全擷取西方基督教思想，創立太平天國
 - (C) 慈禧利用民間團體，以武術、符咒對付洋人
 - (D) 張勳籌劃溥儀復辟，主張恢復傳統中國帝制

閱讀下列選文，回答第 43 至 45 題

沙發衝浪(couchsurfing)是一種新興的互助旅遊型態。在網際網路的幫助下，藉由屋主免費提供陌生旅客住宿的空間，讓不同地區的民眾互相接觸，增加彼此了解，發揮互助分享精神，並建立對陌生人的信任感。但對沒有嘗試過的人而言，難免會擔心財物遭竊，因此民間也發展出多種認證機制，提供主客雙方進行辨識，增進彼此的信賴感。這樣的旅遊型態在年輕族群中得到廣大共鳴，因為對經濟較為拮据的他們而言，能節省旅費正是它最大魅力所在。

- 43.由上述內容判斷，「沙發衝浪」最有助於達成下列何者？
- (A)避免科技的不當運用
 - (B)提供更多的國際援助
 - (C)縮小貧富之間的差距
 - (D)促進不同文化的交流
- 44.文中畫雙底線處的事例若發生在我國，被害人依法可採取下列何種方式進行權利救濟？
- (A)向立法機關提出請願
 - (B)向主管機關提出訴願
 - (C)向警察機關提出告訴
 - (D)向監察機關提出陳情
- 45.下列哪一項吸引旅客外出旅遊的誘因，與文中沙發衝浪對年輕族群的最大魅力，最能用同一項「影響消費行為的因素」說明？
- (A)每月休假天數增加
 - (B)交通運輸票價調降
 - (C)出國手續辦理時間縮短
 - (D)網際網路資訊流通快速