

103年國中教育會考

社會科題本

請不要翻到次頁！

讀完本頁的說明，聽從監試委員的指示才開始作答！

※請先確認你的答案卡、准考證與座位號碼是否一致無誤。

請閱讀以下測驗作答說明：

測驗說明：

這是國中教育會考社會科題本，題本採雙面印刷，共 **13** 頁，有 **63** 題選擇題，每題都只有 一個正確或最佳 的答案。測驗時間從 **08:40** 到 **09:50**，共 **70** 分鐘。作答開始與結束請聽從監試委員的指示。

注意事項：

1. 所有試題均為四選一的選擇題，答錯不倒扣。
2. 試題中所附圖形，如有附上比例尺，以比例尺為依據作答；若無比例尺，則該圖僅作為參考，不代表實際大小。
3. 可利用題本中空白部分計算，切勿在答案卡上計算。
4. 依試場規則規定，答案卡上不得書寫姓名座號，也不得做任何標記。故意汙損答案卡、損壞試題本，或在答案卡上顯示自己身分者，該科考試不予計列等級。

作答方式：

請依照題意從四個選項中選出一個正確或最佳的答案，並用 **2B** 鉛筆在答案卡上相應的位置畫記，請務必將選項塗黑、塗滿。如果需要修改答案，請使用橡皮擦擦拭乾淨，重新塗黑答案。例如答案為 **B**，則將 **Ⓑ** 選項塗黑、塗滿，即：**Ⓐ ● Ⓒ Ⓓ**

以下為錯誤的畫記方式，可能導致電腦無法正確判讀。如：

- Ⓐ Ⓑ Ⓒ Ⓓ — 未將選項塗滿
- Ⓐ Ⓑ Ⓒ Ⓓ — 未將選項塗黑
- Ⓐ ● Ⓒ Ⓓ — 未擦拭乾淨
- Ⓐ ● Ⓒ Ⓓ — 塗出選項外
- Ⓐ ● ● Ⓓ — 同時塗兩個選項

請聽到鈴（鐘）聲響後，於題本右上角方格內填寫准考證末兩碼，再翻頁作答

一、單題：(1~54題)

1. 「當年我到屏東築堤防時，每天下午只要看到西邊天空變黑，不到半小時光景，像李子般大小的雨點就落了下來，即便穿著雨衣，撐著雨傘，還是被雨淋得溼透，溪水也因此暴漲，但是到了傍晚雨就停了。」上文最可能是對哪一季節的描述？

- (A)春季 (B)夏季
(C)秋季 (D)冬季

2. 「2010年9月中國漁船進入釣魚臺海域捕魚，遭日本政府扣押，再度引發釣魚臺主權爭議，而我國政府亦召開記者會，宣示釣魚臺列嶼是我國固有之國土。」上述島嶼位於圖(一)中的哪一個海域？

- (A)甲 (B)乙
(C)丙 (D)丁



圖(一)

3. 臺灣現有國家公園中，有三座的範圍涵蓋海域，表(一)為其相關資訊。表中「甲」國家公園的主要特色為下列何者？

- (A)環礁、海洋生態系
(B)溼地生態、文化史蹟
(C)戰地史蹟、傳統閩南建築
(D)珊瑚礁地形、熱帶季風林

表(一)

| 範圍 代號 | 陸域 | | 海域 | |
|----------|------------|------------|------------|------------|
| | 面積 (公頃) | 百分比 (%) | 面積 (公頃) | 百分比 (%) |
| 甲 | 174 | 0.05 | 353,494 | 99.95 |
| 乙 | 4,905 | 12.48 | 34,405 | 87.52 |
| 丙 | 18,084 | 54.32 | 15,206 | 45.68 |

4. 奧地利、匈牙利、塞爾維亞、克羅埃西亞和斯洛維尼亞這五個相鄰的國家，為保護境內某一河川流域的重要自然資源和野生動物，於2011年簽訂一項宣言，建立跨國的自然保護區。上述河川應是指圖(二)中何者？

- (A)甲 (B)乙
(C)丙 (D)丁



圖(二)

5. 「法國今年的聖誕節是個非常『中國化』的節日，堆放在聖誕樹下的禮品都是中國生產的，而樹上懸掛的彩球、燈泡等裝飾品，甚至整棵聖誕樹也都來自中國。」上述現象與中國的何項特色最為相關？

- (A)農礦資源豐富
(B)邊境貿易活絡
(C)國內消費市場廣大
(D)勞工多且工資低廉

6. 圖(三)是老師列舉的臺灣某時期社會運動，它們共同的訴求最可能是下列何者？



- ◎臺灣議會設置請願運動
- ◎組成臺灣民眾黨
- ◎成立臺灣地方自治聯盟

圖(三)

7. 表(二)中的甲、乙、丙、丁代表不同史前文化的經濟活動，其中何者最適合用來描述長濱文化？

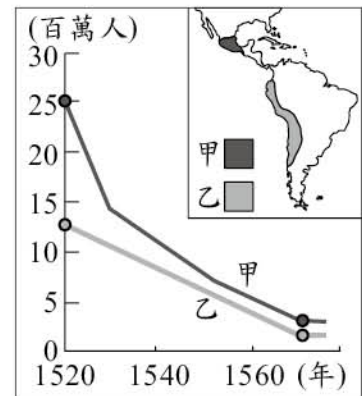
表(二)

| 經濟活動 | |
|------|-----------------|
| 甲 | 以採集、狩獵、漁撈方式維生 |
| 乙 | 以鐵製工具用於狩獵、農耕、捕魚 |
| 丙 | 以捕魚為主，已能種植農作物 |
| 丁 | 大量栽培稻米，也從事狩獵、漁撈 |

8. 在研究中國古代學術發展過程中，朱熹具有不可忽視的重要地位，對後世影響深遠。下列何者是他的重要成就之一？

- (A)編纂《史記》，被後世視為中國史學之父
- (B)以醫術聞名，著有醫學書籍《傷寒雜病論》
- (C)文學作品反映社會現實，被後世譽為「詩聖」
- (D)完成《四書集注》，自元代開始被訂為科舉考試定本

9. 圖(四)呈現某時期甲、乙二地原住民人口數量估計值的變化。造成此變化的原因最可能是下列何者？



圖(四)

10. 有位學者在演講稿中寫到：「在此以前的中國，只是一種封建的統一。直到此時，中央方面才有一個更正式的統一政府，其所轄各地方，不再是封建性的諸侯列國並存，而是緊密隸屬於中央的郡縣制行政區分了。」他所說的「此時」最可能是指下列何時？

- (A)商周
- (B)秦代
- (C)隋唐
- (D)宋代

11. 下列是某則公益廣告的內容：



圖(五)

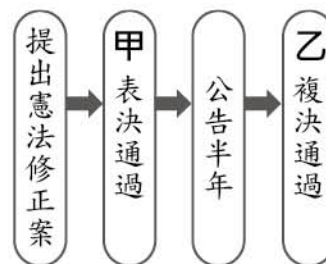
圖(五)之(丙)中，主要指的是違反下列哪一項法律？

- (A)《刑法》 (B)《少年事件處理法》
 (C)《家庭暴力防治法》 (D)《兒童及少年福利與權益保障法》
12. 十二歲的小楓前往通訊行購買手機，但是店員卻回答說：「這支手機價錢不便宜，你年紀還太小，所以我現在不能賣給你，要不要請你的爸媽帶你來買？」根據《民法》規定，下列何者最可能是店員這樣回答的原因？
- (A)小楓不具有責任能力 (B)契約違反誠實信用原則
 (C)小楓僅具有限制行為能力 (D)受監護宣告之人無行為能力

13. 右列是某加油站看板上的文字，根據其內容判斷，加油站業者該作為的目的，最可能是為了實踐下列哪一項公民素養？

歡迎您的光臨！
 本公司專為身心障礙人士提供工作機會，讓他們得以自力更生。您的鼓勵是我們信心的泉源，感謝您的支持。

- (A)尊重多元文化
 (B)擴大公共參與
 (C)培養倫理道德
 (D)追求社會正義
14. 小媛的哥哥整理我國修憲流程如圖(六)，小媛接觸相關課程後，決定在甲、乙兩處加入標註使資料更清楚。下列何者最可能是小媛所標註的內容？



圖(六)

- (A)甲：立法院、乙：公民投票
 (B)甲：立法院、乙：司法院大法官
 (C)甲：司法院大法官、乙：立法院
 (D)甲：司法院大法官、乙：公民投票
15. 阿虎在開班會時吵鬧不停，鐵雄轉頭叫阿虎安靜一點，卻因此在放學後被阿虎痛毆一頓。阿虎的爺爺知道情況後，嘆了口氣說，家裡只有祖孫二人，自己為了工作常不在家，想好好管教孫子，實在是有心無力。根據上述內容判斷，下列何項敘述正確？
- (A)針對開班會時的情況，鐵雄可提出權宜問題
 (B)鐵雄可申請保護令，以免阿虎再次拳腳相向
 (C)鐵雄可向學校提起訴願替自己討回公道
 (D)阿虎家的家庭型態最可能為小家庭型態

16. 圖(七)為中國某學者根據自然和人文的綜合數據，繪製的重要地理分界帶。此分界帶大致為下列何種現象的過渡區？



圖(七)

- (A) 產業：農業區與畜牧區
 (B) 水文：內流區與外流區
 (C) 氣候：溫帶季風與副熱帶季風
 (D) 地形：第二級階梯與第三級階梯

17. 表(三)是歐洲三個都市的位置及氣候基本資料。根據其相對位置判斷，表中的「X」應為下列何者？

表(三)

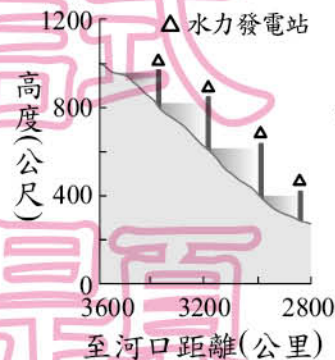
| 都市 | 倫敦 | 柏林 | 華沙 |
|----------|----------|------------|------------|
| 經緯度 | 51°N, 0° | 53°N, 13°E | 52°N, 21°E |
| X | 13.0 | 18.3 | 21.3 |
| 年降水量(mm) | 754 | 591 | 515 |

- (A) 年溫差(°C)
 (B) 年均溫(°C)
 (C) 一月均溫(°C)
 (D) 年降水日數(日)

18. 「早上從花蓮市出發向南行，沿途可見鐵路與公路綿延在山與山之間的平原上。約一小時後車子右轉，直行五分鐘後到達的山區即為本次的旅遊景點，該地保存了許多早期林業的特色建築與設施。」上文所述的旅遊景點應是位於下列哪一座山脈？

- (A) 玉山山脈 (B) 中央山脈
 (C) 雪山山脈 (D) 海岸山脈

19. 圖(八)為中國某河段的縱剖面示意圖，該河段水量豐沛穩定，河面落差大，中國將在此建造四座水力發電站，總發電量超越目前中國最大的水力發電工程。上述河段應位於圖(九)中何處？



圖(九)


- (A) 甲 (B) 乙
 (C) 丙 (D) 丁

圖(八)

20. 位於非洲西北部的突尼西亞，於沿海谷地種植了數千萬株的橄欖樹，橄欖油的產量占世界總產量的4%至9%，居世界重要地位，有橄欖之邦的美稱。下列何者與橄欖成為該國重要經濟作物的關係最密切？

- (A) 因勞力短缺，大規模機械化種植單一作物
 (B) 雨季與生長季無法配合，故種植耐旱作物
 (C) 受英國殖民影響，引進英國本土經濟作物
 (D) 高溫多雨的氣候，適合種植熱帶經濟作物

21. 歷史老師用圖(十)投影片講解臺灣某個時期的交通建設，依圖中內容判斷，這應是指下列哪一時期？
- (A)荷蘭統治時期
(B)鄭氏統治時期
(C)清朝統治時期
(D)日本統治時期



圖(十)

22. 某一美國官員曾發表宣示美國政策的談話：「之前歐洲在專斷的納粹統治下，受到嚴重破壞，戰後的歐洲必須得到實質補助，否則將面臨嚴重的經濟、社會及政治危機。……我們美國政府應採取行動以緩和歐洲這種情況，並幫助他們復甦。」上文和下列何者最有關聯？
- (A)門羅宣言
(B)馬歇爾計畫
(C)門戶開放政策
(D)國際聯盟成立

23. 圖(十一)是描繪中國某時期出現的情景，根據內容判斷，此圖最可能呈現下列何者？
- (A)義和團事變
(B)文化大革命
(C)新文化運動
(D)太平天國起事



圖(十一)

24. 十九世紀末某國的慶典中，出現來自該國海外殖民地的遊行隊伍，包括：加拿大的輕騎兵、印度的軍警，以及戴著圓錐帽的香港警察等。此國最可能是下列何者？
- (A)美國
(B)英國
(C)法國
(D)德國

25. 圖(十二)是十一世紀後期三個宗教的分布示意圖，圖中甲、乙、丙應分別為下列何者？
- (A)甲：希臘正教、乙：伊斯蘭教、丙：羅馬公教
(B)甲：希臘正教、乙：羅馬公教、丙：伊斯蘭教
(C)甲：羅馬公教、乙：希臘正教、丙：伊斯蘭教
(D)甲：羅馬公教、乙：伊斯蘭教、丙：希臘正教



圖(十二)

26. 小顏打算趁著暑假去打工，在面試過後得到三個薪資不同的工作機會，他將薪資情況整理成表(四)。根據表中資料判斷，若小顏僅依薪資多寡做選擇，最後決定去春來亭涼麵打工，則表中甲、乙、丙三處最可能為下列何者？

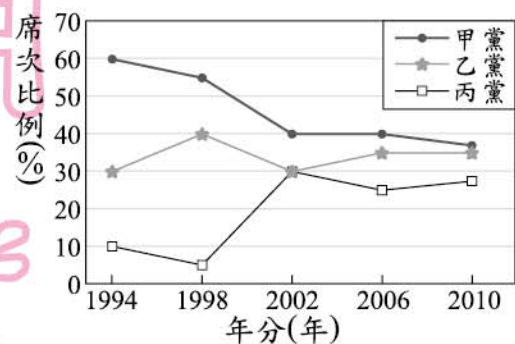
表(四)

| 店家 | 時薪 | 機會成本 |
|-------|-----|------|
| 老王排骨飯 | 甲 | |
| 龍記烏骨雞 | | 乙 |
| 春來亭涼麵 | 120 | 丙 |

單位：元/小時

- (A)甲：110、乙：120、丙：110
 (B)甲：110、乙：110、丙：110
 (C)甲：100、乙：120、丙：120
 (D)甲：100、乙：110、丙：120
27. 我國政府為減少選務經費的支出，並節省選民為了投票而花費的時間，可能會合併某些公職人員選舉於同日舉行。若某年同日舉行二項公職人員選舉，小剛進了投票所後，依法共領取了三張選票，下列何者最可能是此次選舉所產生的公職人員？
- (A)縣長、縣議員
 (B)總統、立法委員
 (C)立法委員、立法院院長
 (D)直轄市市長、直轄市市議員

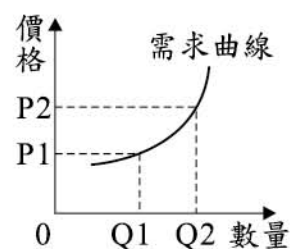
28. 大龍國為內閣制國家，圖(十三)顯示該國1994~2010年各政黨在國會所占席次比例的變化。根據圖中內容判斷，下列何者最符合大龍國的情況？



圖(十三)

29. 下列是行政院院長與某部部長的對話：
- 院長：「這次立法院剛通過的甲法案，我們在政策執行上是否有困難？」
- 部長：「經過內部評估，這個法案實在是窒礙難行，請院長考慮對立法院提出……。」
- 根據上述對話內容判斷，部長應是提出下列何項建議？
- (A)預算案
 (B)覆議案
 (C)施政報告
 (D)不信任案

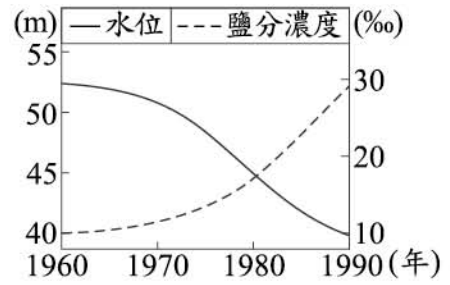
30. 圖(十四)表示某項商品價格與需求數量的關係，圖中的曲線最可能是用來描述下列哪一種商品？



圖(十四)

- (A)超市販賣的鮮乳
 (B)國道客運的車票
 (C)自助餐店的便當
 (D)高級品牌的鑽錶

31. 圖(十五)呈現某內陸湖泊30年間水位和鹽分濃度的改變，造成圖中二項數據變化的原因，下列何者是最合理的推論？



圖(十五)

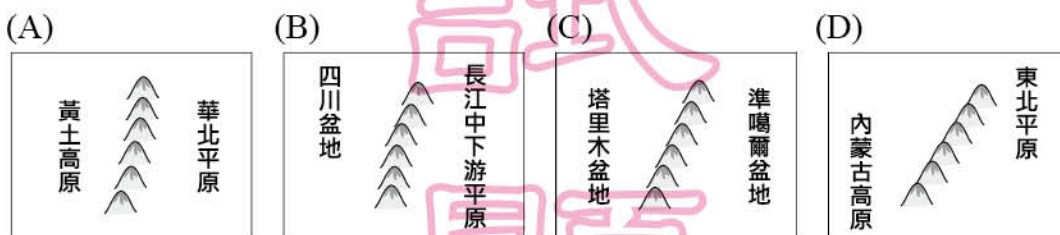
32. 臺灣某一旅遊節目遠赴南半球某地拍攝壯麗的冰河景觀。根據導遊描述，當地海岸附近的冰河前端受全球暖化的影響，崩塌頻率增加。根據圖(十六)的緯度判斷，該地最有可能位於下列哪一個國家？



圖(十六)

33. 「某國人民的宗教信仰以天主教為主，有5%至10%的人口信奉伊斯蘭教，穆斯林主要集中在該國南部，常因要求獨立而造成南北衝突。為平息戰禍，該國政府已於2012年同意讓主張獨立的組織成立相當於國中之國的政治實體。」上述國家應是下列何者？

34. 下列為四張中國重要山脈與地形區的相對位置圖，其中，何者北方的方位標示應指向圖中右側？



35. 表(五)是明哲蒐集部分國家2010年的人口資料。觀察表中最下方一系列的數據，甲國明顯大於其他國家，推論其原因，下列何者最合理？

表(五)

| 項目 | 國家 | 甲 | 乙 | 丙 | 丁 |
|--------------|----|-------|-------|------|------|
| 出生率(‰) | | 12.2 | 13.8 | 17.3 | 29.4 |
| 死亡率(‰) | | 6.9 | 8.4 | 6.0 | 4.9 |
| 人口成長(增加)率(%) | | 5 | 8 | 11 | 24 |
| 增加人口數(千人) | | 6,650 | 2,474 | 985 | 712 |

- (A)醫療條件較為優越
(B)移入率大於移出率
(C)施行獎勵生育政策
(D)人口總數較為龐大

36. 民國八年五月四日，許多學生聚集在北京天安門前示威，抗議巴黎和會將德國在山東的特權轉給日本，是為「五四運動」。當時德國為何會在山東享有特權？
- (A)從甲午戰爭後列強瓜分風潮中奪取利益
 (B)因公使被殺而在《辛丑和約》獲得補償
 (C)袁世凱為了稱帝而對列強所做的讓步
 (D)協助清廷推行自強運動而獲得的贈與

37. 圖(十七)是老師在課堂上講解某時期臺灣歷史所畫的示意圖。由圖片內容推斷，老師最可能是講述何時的歷史？
- (A)十三世紀
 (B)十五世紀
 (C)十七世紀
 (D)十九世紀



圖(十七)

38. 「某年，美國空軍飛臨敵區臺灣進行偵查空照，並於年底開始對臺灣各地的市街、車站、糖廠進行轟炸，臺灣西部縱貫公路與鐵路受創嚴重。」上述情況的發生，與下列何者關係最密切？
- (A)韓戰
 (B)盧溝橋事變
 (C)珍珠港事變
 (D)美國與中華民國斷交

39. 「魏晉以來，各朝對江南經濟的仰賴程度逐漸提高，因此，當王朝發生動亂使南方經濟被嚴重破壞時，甚至間接造成王朝的滅亡。」上述的「動亂」最可能是指下列哪一事件？
- (A)安史之亂
 (B)黃巢之亂
 (C)靖康之禍
 (D)靖難之變

40. 某一碑文刻有防守帝國疆域的軍團名稱，經研究確認碑文上的軍團分別駐紮於今日英國、西班牙、埃及、敘利亞等地，以及多瑙河、萊茵河沿岸。該碑文應是記錄下列哪一帝國的軍團？
- (A)二世紀的羅馬帝國
 (B)七世紀的阿拉伯帝國
 (C)八世紀的查理曼帝國
 (D)十三世紀的蒙古帝國

41. 小宇開車不慎撞到路上的機車騎士，機車騎士住院數日後傷重不治，小宇因此遭檢察官提起公訴，再加上高額賠償金的問題，為此小宇向律師尋求法律諮詢。針對這次車禍衍生的民、刑事訴訟，律師最不可能提供小宇下列哪一項建議？

- (A) 醫療所需費用可與受害者家屬進行和解
- (B) 車輛維修費用可與受害者家屬進行調解
- (C) 此刑事訴訟程序可因在法庭上和緩而終止
- (D) 此民事訴訟案件可向調解委員會聲請調解

42. 曉華是我國國民，她與美國籍男子結婚後生下一女，對於女兒國籍的歸屬感到疑惑，因此上網尋求相關資訊。圖(十八)中四位網友的回答何者正確？

- (A) 甲
- (B) 乙
- (C) 丙
- (D) 丁

- | | |
|---|-------------------------------|
| 甲 | : 必須先知道女兒的出生地，才能確定女兒是否具有我國國籍。 |
| 乙 | : 因為父親是美國籍，所以女兒不具有我國國籍。 |
| 丙 | : 母親具有我國國籍，因此女兒也會具有我國國籍。 |
| 丁 | : 女兒必須經過歸化手續，才能取得我國國籍。 |

圖(十八)

43. 民眾併排停車常會造成交通阻塞，影響行車安全，因此曾有立委提案修改《道路交通管理處罰條例》，調高違規併排停車的罰款，希望能藉由這樣的方式遏止違規行為。根據上述內容判斷，下列敘述何者正確？

- (A) 違反文中的法律規定將負起刑事責任
- (B) 立委提案修法將會增加政府租稅收入
- (C) 罰款金額的提高有助於維持經濟秩序
- (D) 調高罰款的目的是為了減少外部成本

44. 圖(十九)是我國中央政府某院在其官方網站上發布的新聞稿。根據圖中內容判斷，該院依其職權，最可能在其網站中發布下列何項訊息？

- (A) 七月將要舉辦公務人員高等考試
- (B) 本會期將行使審計長人選同意權
- (C) 公布釋字第六六六號憲法解釋文
- (D) 九十八年度決算報告已完成審定



圖(十九)

45. 小光認為自己所屬選區內的民意代表，違背了競選時所提出的政見，於是發動連署提案罷免該位民意代表。上述小光行使的人民基本權利類型與下列何者最類似？

- (A) 對於政府行政處分提出訴願
- (B) 參加國家考試擔任公務人員
- (C) 依照個人需求遷移居住地點
- (D) 接受國民義務教育完成學業

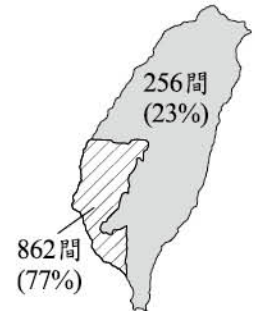
46. 小治：「昨天偶像劇中男主角用的手機好炫喔！我也想要有一支相同的手機。」
 老師：「其實很多節目中出現的產品都是由廠商贊助，希望透過戲劇達到行銷的目的，因此，作為閱聽人應注意戲劇節目的引導效果。」

根據上述對話內容判斷，下列何者最可能是老師所強調的概念？

- (A) 認識自我實現的意義 (B) 分辨不實廣告的資訊
 (C) 解讀媒體隱含的價值 (D) 瞭解大眾文化的發展

47. 圖(二十)為1902年臺灣某種主要出口商品的加工場所數量分布示意圖，根據其分布情形判斷，此種出口商品最可能為下列何者？

- (A) 茶葉
 (B) 樟腦
 (C) 蔗糖
 (D) 鹿皮



圖(二十)

48. 表(六)是某國未來老年人口比例的推估數據，若老師要同學提出減緩此趨勢的因應對策，下列何項政策最適合？

- (A) 廣發敬老津貼
 (B) 提高生育補助
 (C) 增設安養中心
 (D) 鼓勵終身學習

表(六)

| 年 (西元) | 老年人口 比例 (%) |
|-----------|----------------|
| 2014 | 10 |
| 2020 | 14 |
| 2026 | 20 |

49. 臺灣某一時期，經濟政策朝向發展技術、資本密集且具有高附加價值的高科技產業，政府成立資策會，大量延攬海內外學人，將資訊、光電及生物科技等列為發展重點，擬定國家科技發展計畫，帶動近年來高科技產業的發展。為配合此政策，政府還推行了下列哪一措施？

- (A) 實施十大建設
 (B) 推動土地改革
 (C) 設置加工出口區
 (D) 成立新竹科學工業園區

50. 表(七)為四個不同國家中，國內發達地區與落後地區的GDP指標。由表中資訊可知，丙國相較於其他三國，下列何種社會現象特別顯著？

- (A) 人口老化嚴重
 (B) 區域發展不均
 (C) 社會福利完善
 (D) 國民所得較高

表(七)

| 國家 \ 指標 | X | Y |
|---------|-----|----|
| 甲 | 139 | 89 |
| 乙 | 111 | 77 |
| 丙 | 289 | 16 |
| 丁 | 129 | 73 |

$$\text{指標X} = \frac{\text{發達地區人均GDP}}{\text{全國人均GDP}} \times 100$$

$$\text{指標Y} = \frac{\text{落後地區人均GDP}}{\text{全國人均GDP}} \times 100$$

51. 表(八)是臺灣在清朝統治後期歷史發展的四個重大關鍵。若依時間先後順序排列，下列何者正確？

- (A)甲丙乙丁
(B)甲乙丁丙
(C)乙甲丙丁
(D)乙丁甲丙

表(八)

| | |
|---|------------|
| 甲 | 臺灣建省 |
| 乙 | 臺灣開港 |
| 丙 | 清廷將臺灣割讓給日本 |
| 丁 | 清廷開始積極建設臺灣 |

52. 表(九)為2011年中國石油進口

來源，除少數以陸上油管輸送外，主要以海運方式運抵中國。下列哪一地區一旦被封鎖或是發生動亂，對中國石油進口造成的威脅最嚴重？

- (A)北海海域
(B)蘇伊士運河
(C)巴拿馬運河
(D)麻六甲海峽

表(九)

| 國家 | 比例 (%) | 國家 | 比例 (%) |
|--------|--------|----------|--------|
| 沙烏地阿拉伯 | 20 | 委內瑞拉 | 5 |
| 安哥拉 | 12 | 哈薩克 | 4 |
| 伊朗 | 11 | 科威特 | 4 |
| 俄羅斯 | 8 | 阿拉伯聯合大公國 | 3 |
| 阿曼 | 7 | 巴西 | 3 |
| 伊拉克 | 5 | 剛果 | 2 |
| 蘇丹 | 5 | 其他 | 11 |

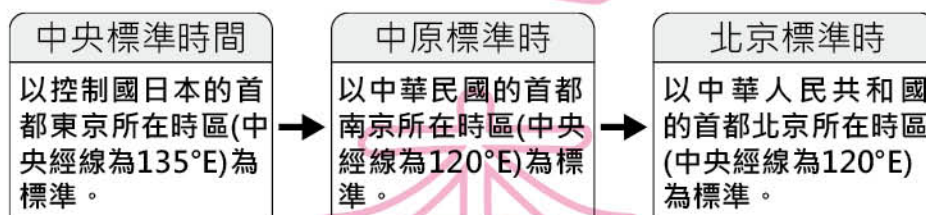
53. 小圓便當店每天僅製作400份便當，每份成本50元，售價60元，為了保持品質，當天沒賣完的便當會全部丟棄，表(十)為近日消費者對該店便當的需求狀況。根據表中資料判斷，下列何者正確？

- (A)總收入為90,000元
(B)共賣出1,600份便當
(C)5月3日獲利4,500元
(D)總生產成本為85,000元

表(十)

| 日期 | 需求數量 (份) |
|------|----------|
| 5月1日 | 400 |
| 5月2日 | 300 |
| 5月3日 | 450 |
| 5月4日 | 550 |

54. 各地所採用的時區及標準時間名稱，有時會隨著當地的政治勢力改變而有所不同。圖(二十一)為二十世紀時，某座城市在十餘年內所屬時區及標準時間名稱的轉變。此城市最可能為下列何者？



圖(二十一)

- (A)香港
(B)臺北
(C)重慶
(D)瀋陽

二、題組：(55~63題)

閱讀下列選文，回答第 55 至 57 題：


野生救援組織(WildAid)是一個由民間各界人士志願組成，致力於保護野生動物的全球性組織。該組織以圖(二十二)中的文字作為標語，並將臺灣列為重要的宣導地點，究其原因，在於我國傳統飲食文化中，魚翅象徵富裕與財力，因此對魚翅的使用量較高。



圖(二十二)

55. 由選文判斷，該組織的組成性質與下列哪一個國際組織最為相似？

- (A)歐洲聯盟 (B)國際紅十字會
(C)世界衛生組織 (D)亞太經濟合作會議

 國際紅十字會
= 紅十字國際委員會

56. 由圖(二十二)可知，該組織希望藉由影響經濟活動的哪一個面向以達成目的？

- (A)生產者對商品市場的供給 (B)消費者對商品市場的需求
(C)生產者對生產要素市場的需求 (D)消費者對生產要素市場的供給

57. 由圖(二十二)判斷，該組織推出此標語的目的，最可能為下列何者？

- (A)促進價值觀念的轉變 (B)加速科學技術的革新
(C)強化法律制度的規範 (D)推動國際組織的發展

閱讀下列選文，回答第 58 至 60 題：

以下是某人的回憶：

戰爭爆發那年，我才十歲，剛開始時民族主義高漲，大家充滿對勝利的期待；但當國家面臨困境後，對於戰爭的熱情逐漸消退。十三歲時，戰爭尚未結束，國內卻接連發生了兩次革命，先是推翻了沙皇統治，成立臨時政府。後來，臨時政府也控制不住局面，布爾什維克黨發動革命，建立新政權，立即推行了許多新政策。

之後，我們的日子變得非常難過，政府每週只配發兩小塊麵包。到了冬天，住在首都莫斯科的我們，沒有電燈、沒有水、沒有暖氣，因為寒冷，所有的水管都凍得爆裂，我們只得把書架和房間的夾板拆下燒火取暖。

58. 上文所提及的戰爭應是下列何者？

- (A)日俄戰爭 (B)拿破崙征俄
(C)第一次世界大戰 (D)第二次世界大戰

59. 下列何者最可能是上文所提及的「新政策」？

- (A)建立工廠制度，停止農業生產 (B)提倡資本流通，強化市場經濟
(C)反對關稅障礙，鼓吹自由貿易 (D)沒收私有財產，實施土地公有

60. 上文中所描述首都的氣候特徵，與下列何者關係最密切？

- (A)位處高緯度 (B)沿海寒流流經
(C)位居歐亞的交界 (D)地處高海拔地區

閱讀下列選文，回答第 61 至 63 題：

美國的國家籃球協會(簡稱NBA)是一個男子職業籃球組織，共有30支球隊，2012年部分球隊的所在地如圖(二十三)。每年的11月至隔年4月舉辦的比賽為例行賽，採循環賽制，每支球隊都要完成82場比賽，若球隊在該隊所在地比賽稱為主場比賽，而到對手所在地比賽則稱為客場比賽。NBA在臺灣也擁有廣大的球迷，但因為時差的關係，臺灣的觀眾常需要熬夜或早起觀看同步轉播。



圖(二十三)

61. 某一球隊所在地因附近礦產豐富、交通便利、勞力充足，是著名的汽車工業城市，球隊創建人為汽車發動機生產商，而球隊的隊名也正好與此工業相關。該球隊位於圖中何處？
- (A)甲
(B)乙
(C)丙
(D)丁
62. 2005年某球隊所在城市遭受強烈颶風侵襲，造成嚴重災害，多場比賽因而移至其他城市的場地進行。上述球隊應是下列何者？
- (A)公牛
(B)快艇
(C)黃蜂
(D)拓荒者

63. 表(十一)節錄自火箭隊某年的賽程表，在臺灣觀看哪一場同步轉播比賽的當天開始時間最晚？

表(十一)

| 場次 | 場地 | 對手 | 當地比賽時間 |
|----|----|------|--------|
| 甲 | 客場 | 湖人 | 晚上8點 |
| 乙 | 客場 | 塞爾提克 | 晚上8點 |
| 丙 | 主場 | 勇士 | 晚上8點 |
| 丁 | 客場 | 熱火 | 晚上8點 |

- (A)甲
(B)乙
(C)丙
(D)丁

試題結束